

AVANÇASP



PREFEITURA MUNICIPAL DE BOM  
SUCESSO DE ITARARÉ

PROCESSO SELETIVO  
01/2024

# PSICÓLOGO

## Leia atentamente as instruções abaixo

### 1. PROVA E FOLHA DE RESPOSTAS

Além deste Caderno de Prova, contendo 40 (quarenta) questões objetivas, você receberá do Fiscal de Sala:

- 01 (uma) Folha de Respostas destinada às respostas das questões objetivas. Confira se seus dados estão corretos.

### 2. TEMPO

- 03 (três) horas é o tempo disponível para realização da prova, já incluído o tempo para marcação da Folha de Respostas da prova objetiva;

- **01 (uma) hora** após o início da prova é possível, retirar-se da sala levando o caderno de prova;

### 3. INFORMAÇÕES GERAIS

- As questões objetivas têm 05 (cinco) alternativas de resposta (A, B, C, D, E) e somente **uma** delas está correta;

- Verifique se seu caderno está completo, sem repetição de questões ou falhas. Caso contrário, informe imediatamente o Fiscal da Sala, para que sejam tomadas as devidas providências;

- Confira seus dados pessoais na Folha de Respostas, especialmente nome, número de inscrição e documento de identidade e leia atentamente as instruções para preenchimento;

- O preenchimento das respostas da prova objetiva é de sua responsabilidade e não será permitida a troca de Folha de Respostas em caso de erro de marcação pelo candidato;

- Marque, na folha de respostas, com caneta de tinta azul ou preta, a letra correspondente à alternativa que você escolheu.

- Reserve tempo suficiente para o preenchimento de suas respostas. Para fins de avaliação, serão levadas em consideração apenas as marcações realizadas na Folha de Respostas da prova objetiva, não sendo permitido anotar informações relativas às respostas em qualquer outro meio que não seja o caderno de prova;

- Ao se retirar, entregue a Folha de Respostas preenchida e assinada ao Fiscal de Sala.

#### SERÁ ELIMINADO do presente certame o candidato que:

- a) for surpreendido, durante as provas, em qualquer tipo de comunicação com outro candidato;

- b) portar ou usar, qualquer tipo de aparelho eletrônico (calculadoras, bips/pagers, câmeras fotográficas, filmadoras, telefones celulares, smartphones, tablets, relógios, walkmans, MP3 players, fones de ouvido, agendas eletrônicas, notebooks, palmtops ou qualquer outro tipo de computador portátil, receptores ou gravadores) seja na sala de prova, sanitários, pátios ou qualquer outra dependência do local de prova;

- c) se ausentar da sala em que se realizam as provas levando consigo o Caderno de Questões e/ou a Folha de Respostas;

- d) se recusar a entregar a Folha de Respostas, quando terminar o tempo estabelecido;

- e) não assinar a Lista de Presença e/ou a Folha de Respostas.

---

**LÍNGUA PORTUGUESA**

---

**TEXTO**

---

Leia o texto para responder às questões de 1 a 7.

**Tardígrados brilham no escuro para sobreviver à radiação**

Espécie recém-descoberta do animal, considerado o mais resistente do mundo, possui um “escudo” fluorescente capaz de proteger contra raios UV.

Os tardígrados – ou ursos d’água, para os íntimos – são provavelmente os organismos mais resistentes da Terra. Parentes dos artrópodes, esses seres microscópicos conseguem sobreviver a secas prolongadas, temperaturas congelantes ou muito quentes, falta de oxigênio, pressões altíssimas e outras condições extremas. Como se não bastasse tudo isso, cientistas descobriram uma nova espécie de tardígrado com um mecanismo de defesa inusitado: um escudo contra radiação ultravioleta que brilha no escuro.

A descoberta foi feita por acaso. Pesquisadores do Instituto Indiano de Ciência, em Bangalore, coletaram diversos tardígrados em musgos e ambientes aquáticos pelo campus, a fim de estudá-los. Uma das placas contendo as amostras foi deixada embaixo de uma lâmpada de ultravioleta usada para esterilização de materiais. Uma espécie de nematelminto chamada *Caenorhabditis elegans*, que estava na amostra, morreu em 15 minutos de exposição à radiação. Os tardígrados da espécie *Hypsibius exemplaris* também pereceram em até 24 horas. Mas, para a surpresa dos pesquisadores, alguns tardígrados com coloração avermelhada sobreviveram vários dias expostos aos raios mortais de ultravioleta. Mesmo quando a equipe aumentou a dose de radiação em quatro vezes, 60% desses tardígrados continuaram vivendo por até 30 dias.

Estudando mais de perto esses exemplares, os pesquisadores constataram que provavelmente se trata de uma espécie ainda não identificada do gênero *Paramacrobotus*. O que mais chamou atenção na descoberta foi o fato de que, sob luz

ultravioleta, os tardígrados até então avermelhados brilhavam em um forte tom de azul escuro. Segundo a pesquisa publicada na revista *Biology Letters*, trata-se de um curioso mecanismo de defesa dessa espécie: em seu corpo há pigmentos especiais capazes de transformar a radiação ultravioleta nociva em uma luz azulada que não causa danos, funcionando como um tipo de escudo antirradiação.

A equipe observou que os tardígrados que apresentavam menor quantidade desse pigmento morriam mais rapidamente do que os que brilhavam mais. Ao mesmo tempo, quando os cientistas extraíam a substância desses seres e cobriam outras espécies de tardígrados que não possuem o escudo, como a *Hypsibius exemplaris*, esses também aguentavam mais tempo sob os raios ultravioletas.

Os pesquisadores esperam entender melhor a nova espécie em pesquisas posteriores. É possível, especulam os cientistas, que aquela espécie desenvolveu o mecanismo em um processo de adaptação aos verões quentes e secos da Índia.

**Revista Superinteressante.** (Adaptado). Disponível em: <https://super.abril.com.br/ciencia/tardigrados-brilham-no-escuro-para-sobreviver-a-radiacao/>

---

**QUESTÃO 01**

---

De acordo com o texto, a respeito dos tardígrados é correto afirmar que:

- (A) apenas tardígrados que apresentam pigmentos especiais sobrevivem naturalmente à radiação.
- (B) todas as espécies de tardígrados são igualmente resistentes a quaisquer variações de ambiente.
- (C) os tardígrados sem pigmento especial morrem em poucos minutos quando expostos à radiação.
- (D) a variação de pigmento de espécie para espécie está relacionada à contaminação por nematelmintos.
- (E) os pigmentos especiais dos tardígrados do gênero *Paramacrobotus* são um mecanismo utilizado em contextos de fuga.

Considere o excerto a seguir para responder às questões de 2 a 5:

Uma espécie de nematelminto chamada *Caenorhabditis elegans*, que estava na amostra, morreu em 15 minutos de exposição à radiação. Os tardígrados da espécie *Hypsibius exemplaris* também pereceram em até 24 horas. Mas, para a surpresa dos pesquisadores, alguns tardígrados com coloração avermelhada sobreviveram vários dias expostos aos raios mortais de ultravioleta.

### QUESTÃO 02

No contexto em que ocorre, o emprego do advérbio *também* denota:

- (A) afirmação.
- (B) contraste.
- (C) inclusão.
- (D) exclusão.
- (E) ênfase.

### QUESTÃO 03

O vocábulo “que”, que ocorre no excerto apresentado, classifica-se gramaticalmente como:

- (A) pronome interrogativo.
- (B) pronome relativo.
- (C) pronome indefinido.
- (D) pronome pessoal.
- (E) pronome demonstrativo.

### QUESTÃO 04

No contexto em que ocorre, a regência dos verbos “morreu” e “pereceram” são, respectivamente:

- (A) intransitiva e intransitiva
- (B) transitiva indireta e transitiva indireta.
- (C) transitiva direta e transitiva direta.
- (D) intransitiva e transitiva indireta.
- (E) transitiva indireta e intransitiva.

### QUESTÃO 05

Analise as palavras apresentadas a seguir e assinale a alternativa em que todas permitem flexão de gênero.

- (A) uma; amostra; exposição.
- (B) espécie; tardígrados; expostos.
- (C) chamada; radiação; os.
- (D) pesquisadores; alguns; avermelhada.
- (E) surpresa; vários; ultravioleta.

### QUESTÃO 06

Considere o excerto: “Uma das placas contendo as amostras foi deixada embaixo de uma lâmpada de ultravioleta usada para esterilização de materiais.” A voz verbal que ocorre no contexto apresentado é:

- (A) média.
- (B) passiva sintética.
- (C) passiva analítica.
- (D) reflexiva.
- (E) ativa.

### QUESTÃO 07

Considere o excerto: “A equipe observou **que** os tardígrados que apresentavam **menor** quantidade desse pigmento morriam **mais** rapidamente do que **os** que brilhavam mais.” Em relação às categorias gramaticais, as palavras em destaque no excerto apresentado são classificadas, respectivamente, em:

- (A) pronome relativo, advérbio, advérbio, pronome demonstrativo.
- (B) conjunção integrante, adjetivo, adjetivo, artigo.
- (C) preposição, adjetivo, advérbio, artigo.
- (D) conjunção integrante, adjetivo, advérbio, pronome demonstrativo.
- (E) pronome relativo, advérbio, preposição, pronome pessoal.

**QUESTÃO 08**

Assinale a palavra que apresenta desvio ortográfico em relação ao emprego do hífen.

- (A) porto-alegrense.
- (B) anti-inflamatório.
- (C) macro-ambiente.
- (D) infra-hepático.
- (E) pré-eleitoral.

**QUESTÃO 09**

Considere as seguintes sentenças:

Todas \_ vezes que vamos \_ cidade, chove durante o trajeto. O que é impressionante é que, quando estamos prestes \_ chegar, o céu se transforma, e não deixa qualquer vestígio da chuva.

Assinale a alternativa em que as opções apresentadas preenchem corretamente as lacunas do excerto.

- (A) as; a; a.
- (B) as; à; à.
- (C) às; à; a.
- (D) as; à; a.
- (E) às; a; à.

**QUESTÃO 10**

Analise as sentenças a seguir e assinale aquela em que a palavra *um* atua como pronome indefinido.

- (A) Comprei *um* quilo de batatas para preparar no domingo.
- (B) A poltrona *um* está reservada para o palestrante.
- (C) Encontrei *um* amigo da época da faculdade lá no mercado.
- (D) Esse é *um* que não gosta de trabalhar.
- (E) Procuo *um* bom mecânico para fazer a revisão do carro.

**MATEMÁTICA E RACIOCÍNIO LÓGICO****QUESTÃO 11**

Uma certa competição há duas modalidades. Na primeira modalidade competem 5 pessoas, já na segunda modalidade competem 10 pessoas. Cada pessoa pode obter uma pontuação de 0 a 5. Suponha que na primeira modalidade, a média dos 4 primeiros competidores foi 3,0, e que na segunda modalidade, a média dos 9 primeiros competidores também foi 3,0. Se o 5º competidor da primeira modalidade e o 10º competidor da segunda modalidade obtiverem ambos uma pontuação 5,0, qual a diferença entre a média dos 5 competidores da primeira modalidade, e os 10 competidores da segunda?

- (A) 0.
- (B) 1/5.
- (C) 2/5.
- (D) 2.
- (E) 1/2.

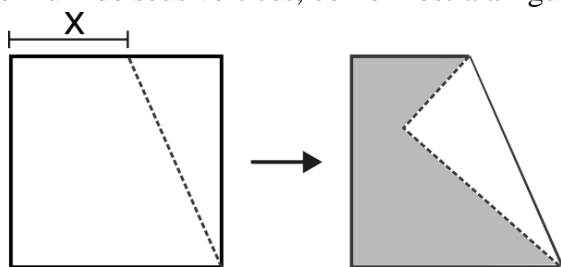
**QUESTÃO 12**

Uma empresa fornece aos seus usuários dois tipos de serviço, chamados de A e B. A equipe de marketing fez uma pesquisa para entender por qual serviço a marca da empresa é conhecida no mercado. A pesquisa resultou que 65% da população conhece o serviço A da marca, 45% conhecem o serviço B da marca, e 10 % não conhecem nenhum serviço da marca. Com base nessas informações, indique a porcentagem da população que conhece os dois serviços simultaneamente:

- (A) 20%.
- (B) 10%.
- (C) 15%.
- (D) 30%.
- (E) 5%.

**QUESTÃO 13**

A figura abaixo mostra uma folha inicialmente quadrada de lado 5 cm que foi dobrada ao longo de um ponto arbitrário do seu lado, juntamente com um de seus vértices, como mostra a figura:



Sabendo que a distância X é 5/9 do lado do quadrado, indique a área da região sombreada, em cm<sup>2</sup>:

- (A) 50/9.
- (B) 100/81.
- (C) 125/9.
- (D) 175/9.
- (E) 50/81.

**QUESTÃO 14**

A duração da bateria de um celular também depende da exigência de processamento que um determinado aplicativo demanda. A tabela abaixo mostra o consumo de bateria por hora de alguns aplicativos.

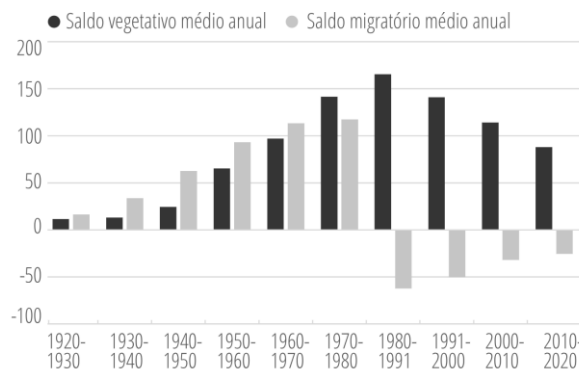
Uso	Consumo de bateria (% da carga total por hora)
Aplicativo de mensagem	5%
Rede social	20%
Reprodutor de música	7%
Reprodutor de vídeo	15%

Suponha que uma pessoa, inicialmente com carga total (100% de bateria), passou 2 horas na rede social, 3 horas no aplicativo de mensagem e 40 minutos reproduzindo um vídeo. Essa pessoa deseja usar o restante da carga que sobrou para ouvir música. Por quantas horas ela conseguirá usar o reprodutor de música até que a bateria descarregue completamente?

- (A) 4.
- (B) 5.
- (C) 6.
- (D) 7.
- (E) 8.

**QUESTÃO 15**

A figura abaixo mostra o saldo vegetativo e o saldo migratório do município de São Paulo nos últimos 100 anos:



Fonte: Governo do Estado de São Paulo. SEADE Informa. Acesso em 24/01/2024.

O saldo vegetativo representa o número de nascimentos menos o número de óbitos. Já o saldo migratório representa o número de imigrantes menos o número de emigrantes. Com base no gráfico, é INCORRETO afirmar que:

- (A) No período analisado, sempre houve mais nascimentos que óbitos.
- (B) A partir da década de 1980, mais pessoas emigravam do que imigravam.
- (C) Os imigrantes foram um fator importante no crescimento da população até o final da década de 1970.
- (D) Na década de 1980, o município atingiu sua população máxima, passando a decair nos períodos posteriores.
- (E) A década de 1980 teve o menor saldo migratório da série histórica.

---

**NOÇÕES DE INFORMÁTICA**  
**QUESTÃO 16**

---

Considere que utilizando o MS-Windows 7, você tenha optado por excluir um arquivo de uma pasta localizado em seus documentos pessoais. Com essa informação como princípio, é correto afirmar que:

- (A) O arquivo excluído não pode ser recuperado.
- (B) O arquivo excluído só pode ser recuperado por meio da desfragmentação de disco.
- (C) O arquivo excluído só por ser recuperado acessando a pasta “Meus Documentos”.
- (D) O arquivo excluído pode ser restaurado acessando a Lixeira do Windows.
- (E) O arquivo excluído fica temporariamente armazenado no diretório C:\TMP do computador, para que seja possível uma última visualização se necessário.

---

**QUESTÃO 17**

---

O Windows 7 pode ser definido como um:


- (A) Periférico dos computadores de trabalho.
- (B) Sistema Operacional de computadores.
- (C) Navegador padrão da Microsoft.
- (D) Aplicativo para envio e recepção de e-mails.
- (E) Roteador de internet.

---

**QUESTÃO 18**

---

A imagem a seguir ilustra uma pasta existente na área de trabalho do MS-Windows 7:



Fonte: 1 Manual Windows-7

A pasta com a sobreposição do símbolo com a seta, indica que:

- (A) A pasta está vazia.
- (B) A pasta foi criada por intermédio de ferramenta de captura de tela.
- (C) A pasta só permite em sua composição arquivos texto.
- (D) A pasta só permite em sua composição arquivos executáveis.
- (E) A pasta refere-se a um atalho de outra existente.

---

**QUESTÃO 19**

---

Utilizando o MS-Windows 7, se o usuário acionar o comando de atalho Ctrl + Esc, o resultado obtido será:

- (A) A abertura do menu iniciar.
- (B) O fechamento do programa em uso.
- (C) A atualização da janela de navegação ativa.
- (D) O cancelamento da tarefa atual.
- (E) Apagar o item selecionado sem movê-lo para a lixeira.

---

**QUESTÃO 20**

---

O Microsoft Word é um processador de texto desenvolvido em meados de 1983 e até hoje é usado como um dos principais programas na confecção de redações.

Para salvar de forma automática os textos digitados no programa, pode-se usar as teclas de atalhos:

- (A) Ctrl + A
- (B) Ctrl + B
- (C) Shift + F2
- (D) Shift + 9
- (E) Shift + 8

---

**CONHECIMENTOS ESPECÍFICOS**

---

---

**QUESTÃO 21**

---

Na prática da psicoterapia individual, o profissional pode adotar diferentes abordagens. É a teoria psicológica tem como fundamento principal a análise do inconsciente e o papel dos processos inconscientes na determinação do comportamento:

- (A) Terapia Cognitivo-Comportamental.
- (B) Terapia Existencial-Humanista.
- (C) Psicanálise.
- (D) Terapia Comportamental.
- (E) Gestalt-Terapia.



**QUESTÃO 22**

Ao conduzir uma psicoterapia de grupo, o psicólogo pode se deparar com dinâmicas específicas. É um benefício comumente associado à psicoterapia de grupo:

- (A) Foco exclusivo no cliente.
- (B) Maior flexibilidade nas sessões.
- (C) Interação social limitada.
- (D) Empatia individualizada.
- (E) Suporte entre pares.

**QUESTÃO 23**

A psicologia experimental busca compreender os processos mentais por meio de experimentos controlados. Qual é um dos principais métodos utilizados na psicologia experimental para investigar a relação entre variáveis?

- (A) Estudo de Caso.
- (B) Observação Naturalista.
- (C) Entrevistas Estruturadas.
- (D) Experimento Controlado.
- (E) Análise de Conteúdo.

**QUESTÃO 24**

Na abordagem cognitivo-comportamental, a ênfase recai sobre a relação entre pensamentos, emoções e comportamentos. É a técnica terapêutica comumente utilizada para identificar e modificar padrões cognitivos disfuncionais:

- (A) Relaxamento Progressivo.
- (B) Psicoeducação.
- (C) Mindfulness.
- (D) Terapia Cognitiva.
- (E) Psicanálise.

**QUESTÃO 25**

Na abordagem existencialista, a reflexão sobre a liberdade e a responsabilidade individual é fundamental. Qual filósofo existencialista influenciou o desenvolvimento dessa abordagem, enfatizando a busca de significado na existência?

- (A) Albert Camus.
- (B) Jean-Paul Sartre.
- (C) Martin Heidegger.
- (D) Søren Kierkegaard.
- (E) Friedrich Nietzsche.

**QUESTÃO 26**

Na abordagem analítica, a compreensão simbólica é central. É o psicólogo que desenvolveu a psicologia analítica, explorando conceitos como o inconsciente coletivo e arquétipos?

- (A) Carl Rogers.
- (B) B. F. Skinner.
- (C) Carl Jung.
- (D) Alfred Adler.
- (E) Melanie Klein.

**QUESTÃO 27**

O psicodrama é uma abordagem terapêutica que utiliza técnicas dramáticas para explorar questões psicológicas. Segundo Jacob Levy Moreno, o criador do psicodrama, qual é o conceito central que destaca a expressão dramática como meio terapêutico?

- (A) Transferência.
- (B) Catarse.
- (C) Enactment.
- (D) Empatia.
- (E) Sublimação.

**QUESTÃO 28**

A psicossomática explora a interação entre mente e corpo, considerando a influência de fatores emocionais na saúde física. É o princípio fundamental da psicossomática que destaca a manifestação de conflitos emocionais por meio de sintomas físicos:

- (A) Princípio da Homeostase.
- (B) Princípio da Somatização.
- (C) Princípio da Equanimidade.
- (D) Princípio da Reversibilidade.
- (E) Princípio da Neuroplasticidade.

**QUESTÃO 29**

A abordagem gestáltica destaca a importância da percepção total e organizada para compreender a experiência humana. É o conceito fundamental da Gestalt que ressalta a tendência natural do organismo para a completação e organização das experiências:

- (A) Insight.
- (B) Introversão.
- (C) Paradoxo Gestáltico.
- (D) Princípio da Boa Forma.
- (E) Tendência Atualizante.

**QUESTÃO 30**

Em relação ao transtorno bipolar, qual das seguintes afirmações é correta?

- (A) O transtorno bipolar é caracterizado apenas por episódios de depressão.
- (B) No transtorno bipolar do tipo I, os episódios maníacos são ausentes.
- (C) O tratamento do transtorno bipolar geralmente envolve apenas abordagens farmacológicas.
- (D) O transtorno bipolar do tipo II é caracterizado por episódios de hipomania e depressão.
- (E) A causa do transtorno bipolar é exclusivamente genética.

**QUESTÃO 31**

Das seguintes abordagens, abaixo, indique a que destaca a importância do funcionamento social e cultural na compreensão das manifestações psicopatológicas:

- (A) Psicanálise.
- (B) Comportamentalismo.
- (C) Fenomenologia.
- (D) Psicologia Cognitiva.
- (E) Behaviorismo.

**QUESTÃO 32**

Em relação à nosologia psiquiátrica, é a principal característica do Sistema Multiaxial do DSM-IV:

- (A) Classificação baseada apenas em critérios biológicos.
- (B) Avaliação da gravidade do transtorno em uma única escala.
- (C) Ênfase exclusiva em sintomas comportamentais.
- (D) Consideração de diferentes fatores que influenciam o diagnóstico.
- (E) Abordagem centrada apenas em aspectos psicodinâmicos.

**QUESTÃO 33**

Na abordagem da psicopatologia cultural, como as diferenças culturais são consideradas no entendimento dos transtornos mentais?

- (A) São desconsideradas, pois os transtornos mentais são universais.
- (B) São vistas como causas primárias dos transtornos.
- (C) Podem influenciar a manifestação e interpretação dos transtornos.
- (D) São consideradas apenas em diagnósticos específicos.
- (E) Têm impacto apenas nas intervenções terapêuticas.

**QUESTÃO 34**

Das teorias psicopatológicas listadas, abaixo, é a que enfatiza a influência da dinâmica intrapsíquica, como conflitos inconscientes, na manifestação dos transtornos mentais:

- (A) Psicanálise.
- (B) Teoria Cognitivo-Comportamental.
- (C) Abordagem Humanista.
- (D) Modelo Biopsicossocial.
- (E) Terapia Comportamental.

**QUESTÃO 35**

Segundo a perspectiva fenomenológica da psicopatologia, os fenômenos psíquicos são compreendidos:

- (A) Como manifestações exclusivamente biológicas.
- (B) Como reflexos diretos de comportamentos aprendidos.
- (C) Como resultado de desequilíbrios químicos no cérebro.
- (D) Como padrões de resposta condicionados.
- (E) Como experiências subjetivas e significativas.



**QUESTÃO 36**

É a teoria da personalidade enfatiza a busca por significado e propósito na vida, considerando o desenvolvimento pessoal e a autorrealização como objetivos centrais:

- (A) Teoria Psicanalítica
- (B) Teoria Comportamental
- (C) Teoria Humanista-Existencial
- (D) Teoria Cognitiva
- (E) Teoria dos Traços

**QUESTÃO 37**

Na abordagem cognitiva da teoria da personalidade, \_\_\_\_\_ é o conceito fundamental que se refere a estruturas mentais subjacentes, moldadas por experiências passadas, que influenciam a forma como interpretamos novas informações e eventos. Assinale a alternativa que preenche, corretamente, a lacuna do texto:

- (A) Inconsciente Coletivo.
- (B) Condicionamento Operante.
- (C) Esquemas Cognitivos.
- (D) Complexo de Édipo.
- (E) Instintos Básicos.

**QUESTÃO 38**

De acordo com a Lei Federal nº. 10.216/2001, que dispõe sobre a proteção e os direitos das pessoas portadoras de transtornos mentais, é o princípio fundamental que orienta o tratamento dessas pessoas:

- (A) Princípio da Medicalização.
- (B) Princípio da Liberdade.
- (C) Princípio da Coerção.
- (D) Princípio da Segregação.
- (E) Princípio da Hospitalização Compulsória.

**QUESTÃO 39**

Na Política Nacional de Saúde Mental, é o objetivo central relacionado à reforma psiquiátrica:

- (A) Ampliação de Hospitais Psiquiátricos.
- (B) Aumento da Medicalização.
- (C) Incentivo à Isolamento Social.
- (D) Manutenção do Modelo Asilar.
- (E) Desinstitucionalização e Reinserção Social.

**QUESTÃO 40**

Em um estudo longitudinal sobre os efeitos a longo prazo de intervenções psicoterapêuticas em saúde mental, os pesquisadores utilizaram o método de análise de variância (ANOVA) para comparar múltiplos grupos ao longo do tempo. O objetivo era investigar se havia diferenças estatisticamente significativas nas trajetórias de melhora entre diferentes abordagens terapêuticas. A principal hipótese testada por meio da ANOVA neste contexto é:

- (A) Hipótese Nula: Não há diferença nas médias dos grupos.
- (B) Hipótese Alternativa: Há diferença nas médias dos grupos.
- (C) Hipótese Nula: A variação dentro dos grupos é igual à variação entre os grupos.
- (D) Hipótese Alternativa: A variação dentro dos grupos é diferente da variação entre os grupos.
- (E) Hipótese Nula: A média de todos os grupos é igual.

